 مهر آموزشگاه دبیرستان دوره اول	نام خانوادگی : کلاس : پایه : هفتم	امتحان : مطالعات تاریخ امتحان : ۱۴۰۱/۱۰/۱۳ مدت آزمون : ۶۰ دقیقه نوبت اول - دیماه	نام : نام خانوادگی : کلاس : پایه : هفتم
	برتران علم نام و نام خانوادگی دبیر : شادیان		

فصل ۱

۰/۱۵ ۱- شناخت استعدادهايمان و شکوفا کردن آن ها جزء کدام دسته از مسئولیت های ما است ؟
 الف) مسئول بودن ما نزد خداوند
 ب) مسئول بودن نسبت به خودمان
 ج) نسبت به دیگران
 د) نسبت به عالم آفرینش

۰/۱۵ ۲- افراد در نقش های مختلف ، مسئولیت های یکسان دارند. ص غ

۰/۱۵ ۳- مهم ترین حق انسان ها ، حق چیست..... است.

۱ ۴- دو مورد از حقوق ما در محیط زندگی و کشور را بنویسید. حق استفاده از حرمت پزشکی و بهداشتی

۱ ۵- مسئولیت ما در مدرسه و خانواده چیست ؟ هر کدام یک مورد
 الف) مدرسه : احوال عمومی ، محافظت کنیم ب) خانواده : احترام به پدر و مادر

فصل ۲

۰/۱۵ ۱- ما تا آنجا می توانیم حق خود را اعمال کنیم که مغایر قوانین نباشد

۱ ۲- مقررات مربوط به مکان زیر و کارکرد آن را بنویسید.
 کتابخانه : رعایت سکوت کارکرد : حفظ حقوق دیگران

۰/۱۵ ۳- ایستادن در صف اتوبوس یا نانوائی جزء مقررات می باشد. (اجتماعی - مذهبی)

۰/۱۵ ۴- نظارت بر انتخابات ریات جمهوری از وظایف می باشد. (مجلس - شورای نگهبان)

۱ ۵- نمایندگان مجلس شورای اسلامی چگونه و برای چه مدتی انتخاب می شوند ؟
 یا رای مردم و به مدت ۴ سال

فصل ۳

۰/۱۵ ۱- در موارد ذکر شده چند همدلی و چند همیاری وجود دارد ؟
 - علی به دوستش در درس ریاضی کمک کرد - نگار برای دوستش که بیمار است غصه خورد
 - پژمان با دوستش که از بابت بدهی ناراحت بود درد دل کرد و مقداری به او پول داد.
 الف) دو همدلی ، دو همیاری
 ب) سه همدلی ، یک همیاری
 ج) یک همدلی ، سه همیاری
 د) چهار همیاری


۰/۱۵ ۲- افرادی که تحت پوشش بیمه بهداشت و درمان هستند می توانند تمام هزینه های پزشکی را دریافت کنند.
 ص غ

۳- در باره ی موارد زیر یک سطر بنویسید.
 الف) بیمه ی دانش آموزی
 ب) بیمه گر :
 ۴- دو مورد از وظایف هلال احمر را بنویسید.
 در شرایط عادی برای صلح و دوستی - حفظ محیط زیست - جمع آوری غذا و پوشاک
 چا در زدن

فصل ۴

- ۰/۱۵ ۱- تولید محصول به منظور صورت می پذیرد. (رفع نیاز - سود)
- ۰/۱۵ ۲- کدام مورد زیر در طبقه بندی اصلی مشاغل جای ندارد ؟
الف) کشاورزی ○ خدمات ○ (ب) صنعت ○ (ج) دامداری ✓ (د)
- ۰/۱۵ ۳- مجازات افرادی که بدون مجوز کالا تولید می کنند ، کدام حقوق مصرف کننده را نشان می دهد ؟
الف) استاندارد ○ (ب) برجسب کالا ○ (ج) ضمانت ○ (د) قانون و مقررات ✓
- ۰/۱۵ ۴- چرا کالایی که می خریم باید استاندارد باشد ؟
کیفیت چیزی که می خرد اطمینان داشته باشد
۵- عوامل تولید را نام ببرید و کدام عامل مهم تر می باشد ؟
- ۱ منابع طبیعی - سرمایه - نیروی انسانی - نیروی انسانی

فصل ۵


- ۰/۱۵ ۱- کره جغرافیا محل دقیق پدیده های طبیعی مانند کوه و رود را نشان می دهد. ص ○ غ ✓
- ۰/۱۵ ۲- برای سوال زیر یک مقیاس خطی رسم کن.
فاصله دو نقطه مجاور هم در زمین ۱۰۰ متر و در نقشه ۱ سانتی متر است.
- 
- ۰/۱۵ ۳- کدام پدیده زیر از یک سو به کوه ها و از سویی به دشت ها ختم می شود ؟
الف) مراتع ○ (ب) کوهپایه ها ✓ (ج) بیابان ها ○ (د) چمنزار ○
- ۱ ۴- نموداری رسم کن و در آن تقسیمات کشوری را از بزرگ به کوچک نمایش بده.
استان - شهرستان - شهر - روستا
- ۱ ۵- هر مکان چند ویژگی دارد ؟ نام ببرید و برای هر کدام یک مثال بزنید.
طبیعی: آب و هوا - انسان: زبان -

فصل ۶

- ۰/۱۵ ۱- مهم ترین عناصر آب و هوا کدام است ؟
الف) جهت وزش باد ○ (ب) میزان رطوبت ○ (ج) دما و بارش ✓ (د) سرعت وزش باد ○
- ۰/۱۵ ۲- اختلاف دمای شب و روز زیاد است ، مربوط به آب و هوای
(گرم و خشک داخلی) - گرم و شرجی سواحل جنوب)
- ۰/۱۵ ۳- مهم ترین عاملی که موجب تخریب زیستگاه ها شده چیست ؟
زیست انسان است.
- ۱ ۴- مهم ترین دلایل حفاظت از زیستگاه ها را بنویسید. دو مورد سیاسی تذاری از خراوند - حق حیات
- ۱ ۵- کشاورزی در ناحیه معتدل و مرطوب خزری چگونه است ؟
به صورت دیم - به علت بارش فراوان
در این منضم

موفق باشید.

طراح سوال : شادیان

 مهر آموزشگاه دبیرستان دوره اول	نام خانوادگی : کلاس : پایه : هفتم	امتحان : مطالعات تاریخ امتحان : ۱۴۰۱/۱۰/۱۳ مدت آزمون : ۶۰ دقیقه نوبت اول - دیماه	نام : نام خانوادگی : کلاس : پایه : هفتم
	برتران علم نام و نام خانوادگی دبیر : شادیان	نام : نام خانوادگی : کلاس : پایه : هفتم	نام : نام خانوادگی : کلاس : پایه : هفتم

فصل ۱

۰/۱۵ ۱- شناخت استعدادهايمان و شکوفا کردن آن ها جزء کدام دسته از مسئولیت های ما است ؟
 الف) مسئول بودن ما نزد خداوند
 ب) مسئول بودن نسبت به خودمان
 ج) نسبت به دیگران
 د) نسبت به عالم آفرینش

۰/۱۵ ۲- افراد در نقش های مختلف ، مسئولیت های یکسان دارند. ص غ

۰/۱۵ ۳- مهم ترین حق انسان ها ، حق چیست؟
 الف) حق مالکیت ب) حق استقامت ج) حق حیات د) حق آزادی

۱ ۴- دو مورد از حقوق ما در محیط زندگی و کشور را بنویسید. حق استفاده از خدمات پزشکی و بهداشتی

۱ ۵- مسئولیت ما در مدرسه و خانواده چیست ؟ هر کدام یک مورد
 الف) مدرسه : احوال عمومی ، محافظت کنیم ب) خانواده : احترام به پدر و مادر

فصل ۲

۰/۱۵ ۱- ما تا آنجا می توانیم حق خود را اعمال کنیم که مغایر قوانین نباشد

۱ ۲- مقررات مربوط به مکان زیر و کارکرد آن را بنویسید.
 کتابخانه : رعایت سکوت است کارکرد : حفظ حقوق دیگران

۰/۱۵ ۳- ایستادن در صف اتوبوس یا نانوائی جزء مقررات می باشد. (اجتماعی - مذهبی)

۰/۱۵ ۴- نظارت بر انتخابات ریات جمهوری از وظایف می باشد. (مجلس - شورای نگهبان)

۱ ۵- نمایندگان مجلس شورای اسلامی چگونه و برای چه مدتی انتخاب می شوند ؟
 یا رای مردم و به مدت ۴ سال

فصل ۳

۰/۱۵ ۱- در موارد ذکر شده چند همدلی و چند همیاری وجود دارد ؟
 - علی به دوستش در درس ریاضی کمک کرد - نگار برای دوستش که بیمار است غصه خورد
 - پژمان با دوستش که از بابت بدهی ناراحت بود درد دل کرد و مقداری به او پول داد.
 الف) دو همدلی ، دو همیاری
 ب) سه همدلی ، یک همیاری
 ج) یک همدلی ، سه همیاری
 د) چهار همیاری

۰/۱۵ ۲- افرادی که تحت پوشش بیمه بهداشت و درمان هستند می توانند تمام هزینه های پزشکی را دریافت کنند.
 ص غ


۳- در باره ی موارد زیر یک سطر بنویسید.
 الف) بیمه ی دانش آموزی : برای پیشگیری از بیماریها و درمان آنهاست
 ب) بیمه گر : هزینه های درمانی بیمار را می پردازد

۱ ۴- دو مورد از وظایف هلال احمر را بنویسید.
 در شرایط عادی برای صلح و دوستی - حفظ محیط زیست - جمع آوری غذا و پوشاک
 چا در زدن

فصل ۴

- ۰/۱۵ ۱- تولید محصول به منظور صورت می پذیرد. (رفع نیاز - سود)
- ۰/۱۵ ۲- کدام مورد زیر در طبقه بندی اصلی مشاغل جای ندارد ؟
الف) کشاورزی ○ خدمات ○ (ب) صنعت ○ (ج) دامداری ✓ (د)
- ۰/۱۵ ۳- مجازات افرادی که بدون مجوز کالا تولید می کنند ، کدام حقوق مصرف کننده را نشان می دهد ؟
الف) استاندارد ○ (ب) برجسب کالا ○ (ج) ضمانت ○ (د) قانون و مقررات ✓
- ۰/۱۵ ۴- چرا کالایی که می خریم باید استاندارد باشد ؟
کیفیت چیزی که می خرد اطمینان داشته باشد
۵- عوامل تولید را نام ببرید و کدام عامل مهم تر می باشد ؟
- ۱ منابع طبیعی - سرمایه - نیروی انسانی - نیروی انسانی

فصل ۵

- ۰/۱۵ ۱- کره جغرافیا محل دقیق پدیده های طبیعی مانند کوه و رود را نشان می دهد. ص ○ غ ✓
- ۰/۱۵ ۲- برای سوال زیر یک مقیاس خطی رسم کن.
فاصله دو نقطه مجاور هم در زمین ۱۰۰ متر و در نقشه ۱ سانتی متر است.
- 
- ۰/۱۵ ۳- کدام پدیده زیر از یک سو به کوه ها و از سویی به دشت ها ختم می شود ؟
الف) مراتع ○ (ب) کوهپایه ها ✓ (ج) بیابان ها ○ (د) چمنزار ○
- ۱ ۴- نموداری رسم کن و در آن تقسیمات کشوری را از بزرگ به کوچک نمایش بده.
استان - شهرستان - شهر - روستا
- ۱ ۵- هر مکان چند ویژگی دارد ؟ نام ببرید و برای هر کدام یک مثال بزنید.
طبیعی: آب و هوا - انسان: زبان

فصل ۶

- ۰/۱۵ ۱- مهم ترین عناصر آب و هوا کدام است ؟
الف) جهت وزش باد ○ (ب) میزان رطوبت ○ (ج) دما و بارش ✓ (د) سرعت وزش باد ○
- ۰/۱۵ ۲- اختلاف دمای شب و روز زیاد است ، مربوط به آب و هوای
(گرم و خشک داخلی) - گرم و شرجی سواحل جنوب
- ۰/۱۵ ۳- مهم ترین عاملی که موجب تخریب زیستگاه ها شده چیست؟
زیست انسان است.
- ۱ ۴- مهم ترین دلایل حفاظت از زیستگاه ها را بنویسید. دو مورد: سیاسی - تذاری از خراب - حق حیات
- ۱ ۵- کشاورزی در ناحیه معتدل و مرطوب خزری چگونه است ؟
به صورت دیم - به علت بارش فراوان
در این منقسم

موفق باشید.

طراح سوال : شادیان